




## מחסרים ונהנים

פתרו את התרגיל וצבעו את מספר הכדורים בהתאם לתשובה

$5 - 2 =$ _____	
$3 - 2 =$ _____	
$4 - 3 =$ _____	
$3 - 1 =$ _____	
$2 - 1 =$ _____	
$4 - 1 =$ _____	








## מחסרים ונהנים

פתרו את התרגיל וצבעו את מספר הכדורים בהתאם לתשובה

$5 - 4 =$ _____	
$6 - 5 =$ _____	
$4 - 2 =$ _____	
$3 - 2 =$ _____	
$5 - 3 =$ _____	
$4 - 3 =$ _____	





## מחסרים ונהנים

פתרו את התרגיל וצבעו את מספר הכדורים בהתאם לתשובה

$10 - 4 =$ _____	
$6 - 3 =$ _____	
$8 - 3 =$ _____	
$7 - 5 =$ _____	
$9 - 3 =$ _____	
$4 - 3 =$ _____	

